

Chestionare indicatoare

1. Care indicator rutier indica viteza recomandata?



A



B

- A Doar indicatorul A
- B Doar indicatorul B
- C Ambele indicatoare

2. Care indicator rutier arata sfarsitul zonei locuibile (iesirea din localitate)?



A



B


- A Doar indicatorul A
- B Indicatorul A si B
- C Doar indicatorul B

3. Ce tineti cont la vederea acestui indicator rutier?



- A Intersectie periculoasa
- B *Un drum cu prioritate*
- C *Intersectie dirijata*

4. Ce semnifica aceasta combinatie de indicatoare rutiere?



A *Obligatia de a urmari drumul spre stanga*

B *Daca urmati drumul spre stanga nu trebuie sa acordati prioritate celor care vin din dreapta*

5. **La care combinatie de indicatoare rutiere va puteti astepta la conducatori din sens opus?**



A

B

- A Indicatorul A si B
- B Doar indicatorul A
- C Doar indicatorul B

6. La care indicator rutier va puteti astepta la conducatori din sens opus?



A



B

- A Doar indicatorul B
- B Indicatorul A si B
- C Doar indicatorul A

7. Ce semnifica aceasta combinatie de indicatoare rutiere?



- A *Interzis a vira la stanga pentru autoturisme*
- B *Sensul unic nu este valabil pentru biciclisti si mopede (bromfietsen)*
- C *Nu va intalniti cu nimeni din sens opus*

8. Ce semnifica aceasta combinatie de indicatoare?



- A *Sens unic valabil doar pentru camioane*
- B *Nu va intalniti cu nimeni din sens opus*
- C *Interzis a vira la stanga pentru camioane*

9. Ce semnifica aceasta combinatie de indicatoare?



- A *Sensul unic nu este valabil pentru biciclisti, snorfietsen si bromfietsen*
- B *Interzis virajul la stanga pentru autoturisme*
- C *Nu va intalniti cu nimeni din sens opus*

10. Care participanti la trafic nu au voie sa foloseasca drumul unde este acest indicator rutier?



- A *Conducatorii de biciclete si bromfietsen*
- B *Pietonii*
- C *Conducatorii de vehicule motorizate*

11. Care indicator rutier semnifica faptul ca nu aveti voie sa intrati pe acest drum?



A



B

- A Doar indicatorul A
- B Indicatorul A si B
- C Doar indicatorul B

12. La care indicator rutier are voie un autoturism sa intre pe drumul respectiv?



A



B

- A Doar indicatorul B
- B Indicatorul A si B
- C Doar indicatorul A

13. La care indicator are voie un autoturism sa intre pe strada respectiva?



A



B



C

- Varianta A
- Varianta B
- Varianta C

14. Care indicator rutier semnifica faptul ca nu aveti voie sa intrati pe acel drum?



100m

A



B



C

Varianta **A**
Varianta **B**
Varianta **C**

15. La care indicator rutier este interzisa intrarea cu remorca?



A



B

- A Doar indicator B
- B Indicator A si B
- C Doar indicator A

16. La care indicator rutier are voie un bromfiets sa intre pe drumul respectiv?



A



B

- A Doar indicator A
- B Indicator A si B
- C Doar indicator B

17. Care indicator rutier semnifica o interzicere de intrare pe drumul respectiv avand legatura cu masa totala a vehiculului?



A



B

- A *Indicator A si B*
- B *Doar indicator B*
- C *Doar indicator A*

18. Care indicator rutier indica lungimea maxima permisa?



A



B



C

- Varianta **A**
- Varianta **B**
- Varianta **C**

19. Dupa care indicator rutier va puteti astepta cu pietoni pe carosabil(drum)?



A



B

Varianta **A**
Varianta **B**

20. Dupa care indicator rutier recunoasteti autostrada?



A



B



C

- Varianta A
- Varianta B
- Varianta C

21. La care indicator rutier va dati seama ca sunteti pe autostrada?



A



B



C

- Varianta **A**
- Varianta **B**
- Varianta **C**

22. La care indicator rutier va dati seama ca sunteti pe autostrada?



A



B

- A Doar indicatorul B
- B Indicatorul A si B
- C Doar indicatorul A

23. Care indicator rutier semnifica „ingustarea sau terminarea benzii de urgenta”?



A



B




C

Varianta **A**

Varianta **B**

Varianta **C**

24. Care indicator rutier semnifica curba la stanga?



A



B

- A Doar indicatorul A
- B Doar indicatorul B
- C Indicatorul A si B

25. La ce distanta se afla trecerea la nivel cu calea ferata?



.....

26. Pentru ce ne avertizeaza acest semn rutier?



- A. Pentru o trecere la nivel cu calea ferata cu 2 linii de tren
- B. Pentru o trecere la nivel cu calea ferata cu 1 linie de tren
- C. Pentru o trecere la nivel cu calea ferata cu 2 sau mai multe linii de tren

27. Pentru ce participanti la traffic avertizeaza acest indicator rutier?



- A. *Biciclisti, snorfietsen si bromfietsen*
- B. *Pietoni, biciclisti si snorfietsen*
- C. *Doar biciclisti si snorfiesten*

28. Care indicator rutier semnifica o ruta de ocolire permanenta?



A



B



C


Varianta **A**
Varianta **B**
Varianta **C**

29. Agentul de circulatie face acest semn de oprire. Cei ce trebuie sa opreasca sunt cei ce vin...



- A. Din fata si din spate
- B. Din fata
- C. Din spate

30. Agentul de circulatie face acest semn de oprire. Cei ce trebuie sa opreasca sunt cei ce vin...



- A. Din fata si din spate
- B. Din fata
- C. Din spate

Raspunsuri corecte:

1 B	2 A	3 C	4 B	5 A	6 B
7 B	8 C	9 B	10 B	11 B	12 C
13 B	14 C	15 B	16 A	17 B	18 A
19 B	20 A	21 A	22 A	23 B	24 C
25 <80>	26 C	27 B	28 A	29 B	30 A